

2019 高教社杯全国大学生数学建模竞赛题目

(请先阅读“全国大学生数学建模竞赛论文格式规范”)

A题 高压油管的压力控制

燃油进入和喷出高压油管是许多燃油发动机工作的基础，图 1 给出了某高压燃油系统的工作原理，燃油经过高压油泵从 A 处进入高压油管，再由喷口 B 喷出。燃油进入和喷出的间歇性工作过程会导致高压油管内压力的变化，使得所喷出的燃油量出现偏差，从而影响发动机的工作效率。



图 1 高压油管示意图

问题 1. 某型号高压油管的内腔长度为 500mm，内直径为 10mm，供油入口 A 处小孔的直径为 1.4mm，通过单向阀开关控制供油时间的长短，单向阀每打开一次后就要关闭 10ms。喷油器每秒工作 10 次，每次工作时喷油时间为 2.4ms，喷油器工作时从喷油嘴 B 处向外喷油的速率如图 2 所示。高压油泵在入口 A 处提供的压力恒为 160 MPa，高压油管内的初始压力为 100 MPa。如果要将高压油管内的压力尽可能稳定在 100 MPa 左右，如何设置单向阀每次开启的时长？如果要将高压油管内的压力从 100 MPa 增加到 150 MPa，且分别经过约 2 s、5 s 和 10 s 的调整过程后稳定在 150 MPa，单向阀开启的时长应如何调整？

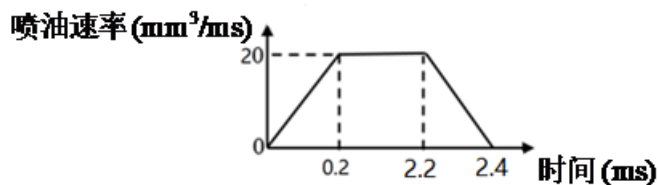


图 2 喷油速率示意图

问题 2. 在实际工作过程中，高压油管 A 处的燃油来自高压油泵的柱塞腔出口，喷油由喷油嘴的针阀控制。高压油泵柱塞的压油过程如图 3 所示，凸轮驱动柱塞上下运动，凸轮边缘曲线与角度的关系见附件 1。柱塞向上运动时压缩柱塞腔内的燃油，当柱塞腔内的压力大于高压油管内的压力时，柱塞腔与高压油管连接的单向阀开启，燃油进入高压油管内。柱塞腔内直径为 5mm，柱塞运动到上止点位

置时，柱塞腔残余容积为 20mm^3 。柱塞运动到下止点时，低压燃油会充满柱塞腔（包括残余容积），低压燃油的压力为 0.5 MPa 。喷油器喷嘴结构如图4所示，针阀直径为 2.5mm 、密封座是半角为 9° 的圆锥，最下端喷孔的直径为 1.4mm 。针阀升程为 0 时，针阀关闭；针阀升程大于 0 时，针阀开启，燃油向喷孔流动，通过喷孔喷出。在一个喷油周期内针阀升程与时间的关系由附件2给出。在问题1中给出的喷油器工作次数、高压油管尺寸和初始压力下，确定凸轮的角速度，使得高压油管内的压力尽量稳定在 100 MPa 左右。

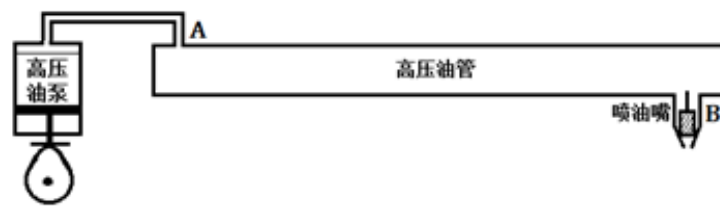


图3 高压油管实际工作过程示意图

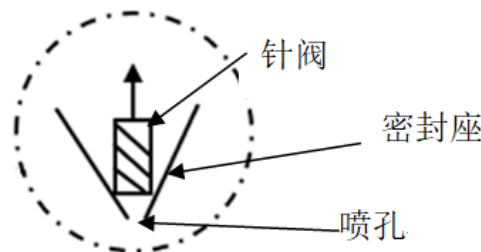


图4 喷油器喷嘴放大后的示意图

问题3. 在问题2的基础上，再增加一个喷油嘴，每个喷嘴喷油规律相同，喷油和供油策略应如何调整？为了更有效地控制高压油管的压力，现计划在D处安装一个单向减压阀（图5）。单向减压阀出口为直径为 1.4mm 的圆，打开后高压油管内的燃油可以在压力下回流到外部低压油路中，从而使得高压油管内燃油的压力减小。请给出高压油泵和减压阀的控制方案。

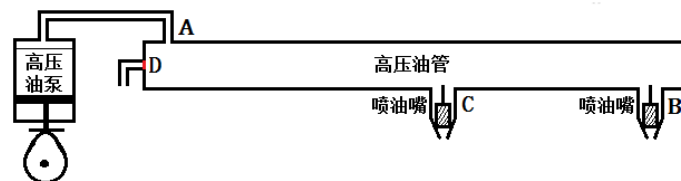


图5 具有减压阀和两个喷油嘴时高压油管示意图

注1. 燃油的压力变化量与密度变化量成正比，比例系数为 $\frac{E}{\rho}$ ，其中 ρ 为燃油

的密度，当压力为100 MPa时，燃油的密度为0.850 mg/mm³。E为弹性模量，其与压力的关系见附件3。

注2. 进出高压油管的流量为 $Q = CA\sqrt{\frac{2\Delta P}{\rho}}$ ，其中Q为单位时间流过小孔的燃油量（mm³/ms），C = 0.85为流量系数，A为小孔的面积（mm²），ΔP为小孔两边的压力差（MPa），ρ为高压侧燃油的密度（mg/mm³）。

附件1：凸轮边缘曲线

附件2：针阀运动曲线

附件3：弹性模量与压力的关系